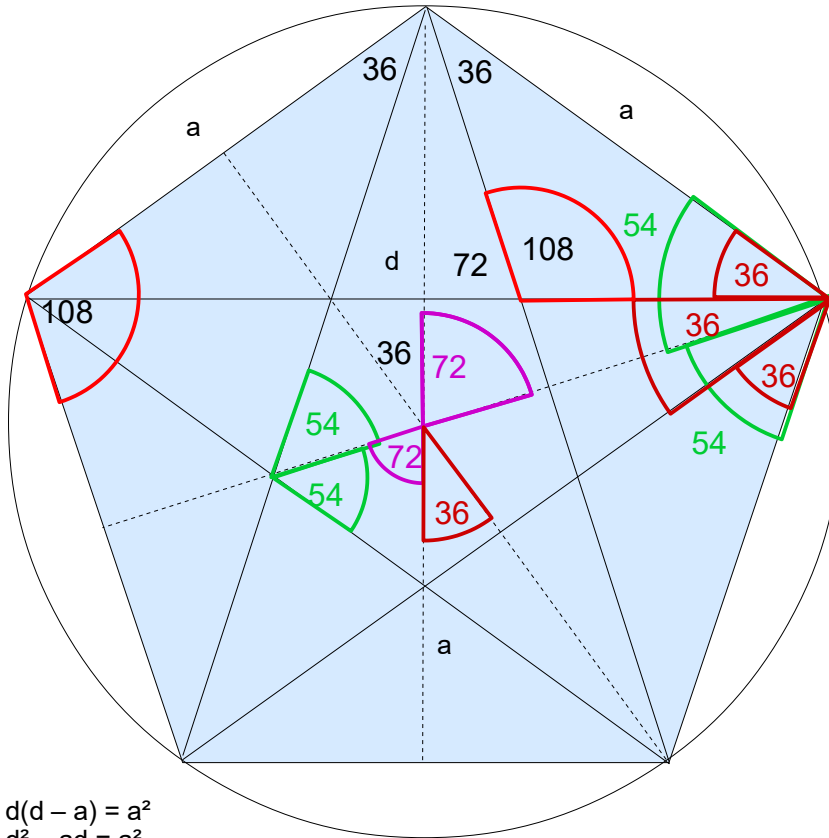


Thema **Maße und Formeln** **Darstellungen**

Reguläres Fünfeck

Reguläres Fünfeck



$$d(d - a) = a^2$$

$$d^2 - ad = a^2$$

$$d^2 - ad - a^2 = 0$$

$$d_{1/2} = \frac{a}{2} \pm \sqrt{\frac{a^2}{4} + a^2}$$

$$d_{1/2} = \frac{1}{2} a (1 \pm \sqrt{5})$$

$$d = \frac{1}{2} a (\sqrt{5} + 1)$$

Die zweite Lösung mit „-“ liefert eine negative Zahl und ist deshalb unbrauchbar.

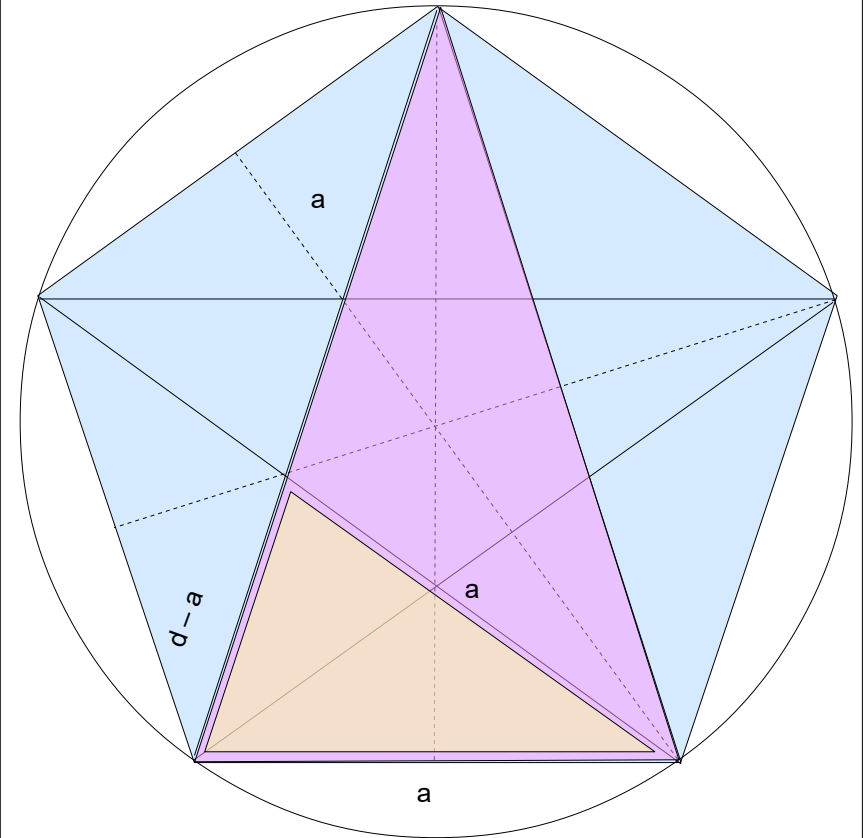
umgestellt nach a ergibt sich:

$$\frac{2d}{\sqrt{5} + 1} = a$$

erweitern mit $\sqrt{5} - 1$
(3. Binomische Formel):

$$\frac{2d(\sqrt{5} - 1)}{5 - 1} = \frac{2d(\sqrt{5} - 1)}{4}$$

$$a = \frac{1}{2} d (\sqrt{5} - 1)$$



Das orange und das pink farbige Dreieck sind ähnlich, da sie die gleichen Winkel besitzen, außerdem sind sie gleichschenkelig, deshalb ist der Abstand vom Eckpunkt zu Schnittpunkt der Diagonallinien a. Damit gilt folgende Verhältnisgleichung:

$$\frac{d-a}{a} = \frac{a}{d}$$

orange
Dreieck

pink
Dreieck

Thema	Maße und Formeln	Darstellungen
-------	------------------	---------------

Reguläres Fünfeck

Winkel

$$\cos 72 = \frac{a/2}{d} = \frac{1/4 d (\sqrt{5} - 1)}{d}$$

$$\cos 72 = 1/4 (\sqrt{5} - 1)$$

$$\begin{aligned} \sin 72 &= \sqrt{1 - (1/4 (\sqrt{5} - 1))^2} \\ &= \sqrt{1 - 1/16 (5 - 2\sqrt{5} + 1)} \\ &= 1/4 \sqrt{16 - (5 - 2\sqrt{5} + 1)} \end{aligned}$$

$$\sin 72 = 1/4 \sqrt{10 + 2\sqrt{5}}$$

$$\cos 36 = \frac{d/2}{a} = \frac{1/4 a (\sqrt{5} + 1)}{a}$$

$$\cos 36 = 1/4 (\sqrt{5} + 1)$$

$$\begin{aligned} \sin 36 &= \sqrt{1 - (1/4 (\sqrt{5} + 1))^2} \\ &= \sqrt{1 - 1/16 (5 + 2\sqrt{5} + 1)} \\ &= 1/4 \sqrt{16 - (5 + 2\sqrt{5} + 1)} \end{aligned}$$

$$\frac{1}{\cos(36)} = \frac{4}{\sqrt{5} + 1} = \frac{4 (\sqrt{5} - 1)}{(\sqrt{5} + 1)(\sqrt{5} - 1)}$$

$$\sin 36 = 1/4 \sqrt{10 - 2\sqrt{5}}$$

$$\frac{1}{\cos(36)} = \sqrt{5} - 1$$

Über die allgemein bekannten Winkelbeziehung erhält man

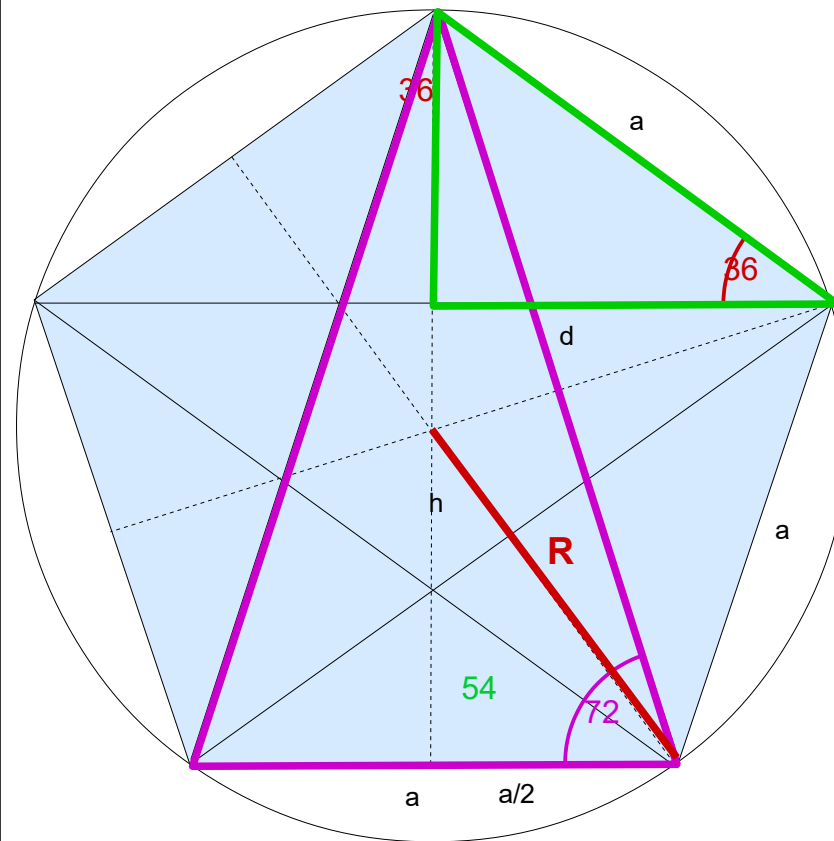
$$\sin 18 = \cos 72 = 1/4 (\sqrt{5} - 1)$$

$$\cos 18 = \sin 72 = 1/4 \sqrt{10 + 2\sqrt{5}}$$

$$\sin 54 = \cos 36 = 1/4 (\sqrt{5} + 1)$$

$$\cos 54 = \sin 36 = 1/4 \sqrt{10 - 2\sqrt{5}}$$

Damit ist es möglich Strecken über Winkelfunktionen zu berechnen, ohne, dass man Winkelfunktionen benutzen muß.



Thema	Maße und Formeln	Darstellungen
-------	------------------	---------------

Reguläres Fünfeck

Umkreis und Inkreis

$$R = a/2 / \cos 54 = a \frac{1}{2 \cos 54} = a \frac{1}{2 \cdot \frac{1}{4} \sqrt{10 - 2\sqrt{5}}} = a \frac{2}{\sqrt{10 - 2\sqrt{5}}}$$

$$= \frac{2 \sqrt{10 - 2\sqrt{5}}}{10 - 2\sqrt{5}} = \frac{\sqrt{10 - 2\sqrt{5}}}{5 - \sqrt{5}} = \frac{\sqrt{10 - 2\sqrt{5}} (5 + \sqrt{5})}{(5 - \sqrt{5})(5 + \sqrt{5})} = \frac{\sqrt{10 - 2\sqrt{5}} \sqrt{(5 + \sqrt{5})^2}}{20}$$

Umformung des Zählers unter einer gemeinsamen Wurzel:

$$(10 - 2\sqrt{5}) (5 + \sqrt{5})^2 = (10 - 2\sqrt{5}) (25 + 10\sqrt{5} + 5) = 2 \cdot 10 (5 - \sqrt{5}) (3 + \sqrt{5}) = 20 (10 + 2\sqrt{5})$$

$$R = a \frac{\sqrt{20 (10 + 2\sqrt{5})}}{20} = a \frac{\sqrt{5 (10 + 2\sqrt{5})}}{10}$$

Aus 20 lässt sich teilweise die Wurzel ziehen $\sqrt{20} = 2\sqrt{5}$

$$R = a \frac{\sqrt{10 (5 + \sqrt{5})}}{10}$$

Außer einem Umkreis besitzt ein Fünfeck auch einen Inkreis. Beide haben den gleichen Mittelpunkt. Der Radius des Inkreises ist $r = h - R$ oder über die Trigonometrie $r = R \cos 36$

$$R = a \frac{\sqrt{10 (5 + \sqrt{5})}}{10} \quad \cos 36 = \frac{1}{4} (\sqrt{5} + 1)$$

$$r = a \frac{\sqrt{10 (5 + \sqrt{5})}}{10} \cdot \frac{1}{4} (\sqrt{5} + 1) = \frac{10(5 + \sqrt{5}) (\sqrt{5} + 1)^2}{40}$$

$$= a \frac{\sqrt{10 (5 + \sqrt{5})} \sqrt{(\sqrt{5} + 1)^2}}{40} = \frac{10(5 + \sqrt{5}) (5 + 2\sqrt{5} + 1)}{40}$$

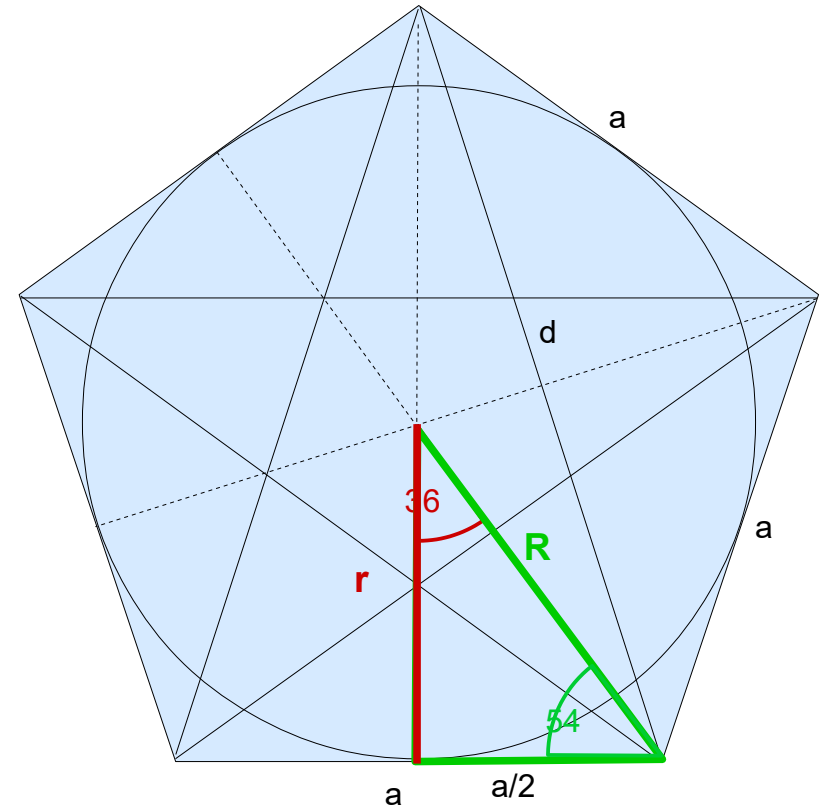
$$= \frac{2 \cdot 10 (5 + \sqrt{5}) (3 + \sqrt{5})}{40} = \frac{20 (20 + 8\sqrt{5})}{40}$$

$$= 80 (5 + 2\sqrt{5})$$

$$r = a \frac{\sqrt{80 (5 + 2\sqrt{5})}}{40}$$

$$r = a \frac{4 \sqrt{5 (5 + 2\sqrt{5})}}{40}$$

$$r = a \frac{\sqrt{5 (5 + 2\sqrt{5})}}{10}$$



Der Inkreisradius ist gleichzeitig die Höhe der fünf kongruenten, gleichschenkligen Dreiecke, die das Fünfeck bilden.

Mathematik – Intensivkurs: Fünfeck

Thema	Maße und Formeln	Darstellungen
-------	------------------	---------------

Reguläres Fünfeck

★ Das Verhältnis von Umkreisradius und Inkreisradius

$$R = a \frac{\sqrt{10(5 + \sqrt{5})}}{10} \qquad r = a \frac{\sqrt{5(5 + 2\sqrt{5})}}{10}$$

$$R = 1/10 a \sqrt{10} \sqrt{(5 + \sqrt{5})} \qquad r = 1/10 a \sqrt{5} \sqrt{(5 + 2\sqrt{5})}$$

$$\frac{R}{r} = \frac{\sqrt{10} \sqrt{(5 + \sqrt{5})}}{\sqrt{5} \sqrt{(5 + 2\sqrt{5})}} = \sqrt{2} \frac{\sqrt{(5 + \sqrt{5})(5 - 2\sqrt{5})}}{\sqrt{(5 + 2\sqrt{5})(5 - 2\sqrt{5})}}$$

$$= \sqrt{2} \sqrt{\frac{(15 - 5\sqrt{5})}{5}}$$

$$\frac{R}{r} = \sqrt{2(3 - \sqrt{5})} = 1,236068$$

● Höhe des Fünfecks

$$h = d \sin 72 = d \cdot \frac{1}{4} \sqrt{10 + 2\sqrt{5}} = a \cdot \frac{1}{2} \sqrt{5 + 2\sqrt{5}}$$

für $d = \frac{1}{2} a (\sqrt{5} + 1)$ folgt aus der Gleichung :

$$h = d \sin 72 = \frac{1}{2} a (\sqrt{5} + 1) \cdot \frac{1}{4} \sqrt{10 + 2\sqrt{5}}$$

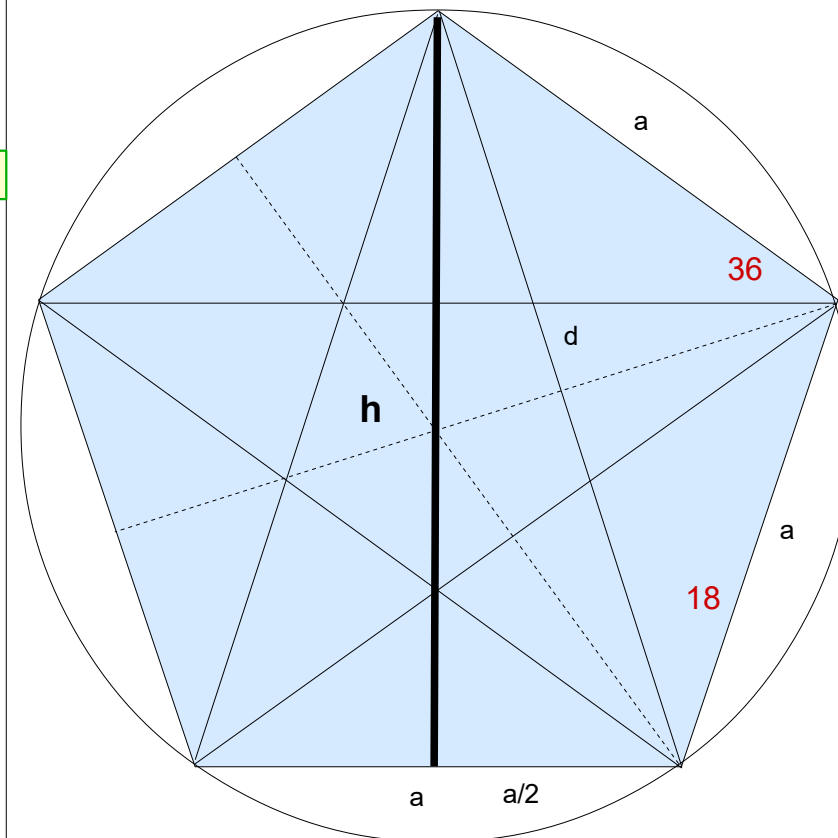
$$= \frac{(10 + 2\sqrt{5})(1 + \sqrt{5})^2}{8} = \frac{(10 + 2\sqrt{5})(1 + 2\sqrt{5} + 5)}{8}$$

$$= \frac{2 \cdot 2(5 + \sqrt{5})(3 + \sqrt{5})}{8} = \frac{4(20 + 8\sqrt{5})}{8}$$

$$h = a \frac{\sqrt{4(20 + 8\sqrt{5})}}{8}$$

$$h = a \frac{\sqrt{16(5 + 2\sqrt{5})}}{8}$$

$$h = a \frac{\sqrt{5 + 2\sqrt{5}}}{2}$$



Mathematik – Intensivkurs: Fünfeck

Thema	Maße und Formeln	Darstellungen
-------	------------------	---------------

Reguläres Fünfeck

★ Teilung der Höhe durch die Linie d

$$h_1 = a \sin 36$$

$$= a \frac{1}{4} \sqrt{10 - 2\sqrt{5}}$$

$$h_2 = a \cos 18$$

$$= a \frac{1}{4} \sqrt{10 + 2\sqrt{5}}$$

★ Das Verhältnis von Höhe und Inkreisradius

$$r = a \frac{\sqrt{5(5+2\sqrt{5})}}{10} = a \frac{\sqrt{5} \sqrt{5+2\sqrt{5}}}{10} = \frac{1}{2} a \frac{\sqrt{5} \sqrt{5+2\sqrt{5}}}{5}$$

$$h = a \frac{1}{2} \sqrt{5+2\sqrt{5}}$$

$$r = \frac{\sqrt{5}}{5} h$$

$$h = \sqrt{5} r$$

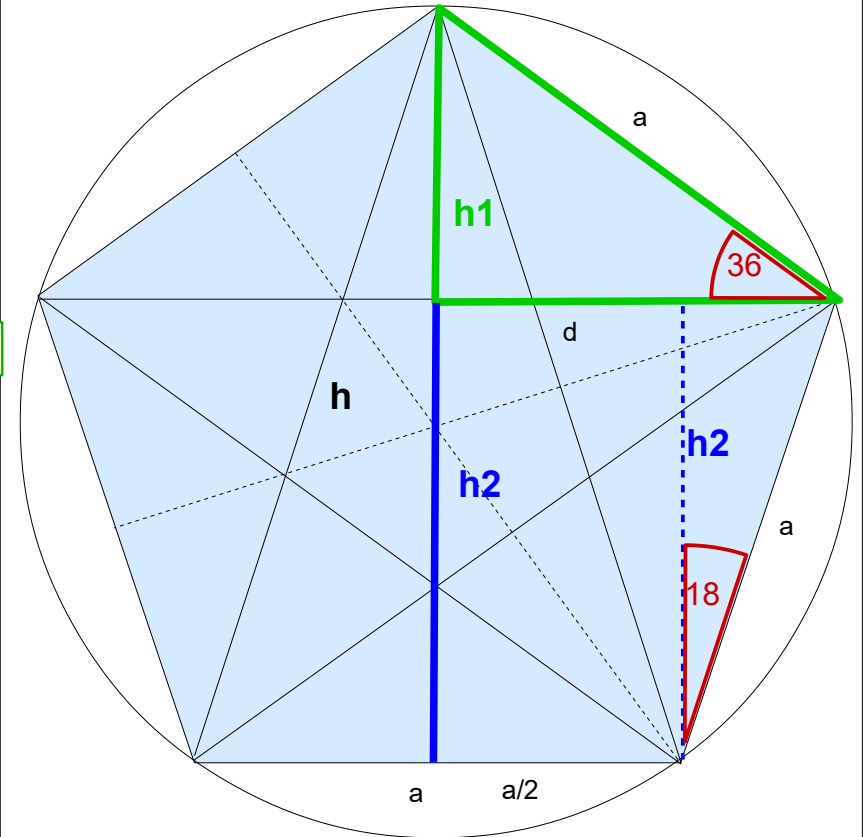
★ Das Verhältnis von Höhe und Umkreisradius

$$R = a \frac{\sqrt{10(5+\sqrt{5})}}{10}$$

$$\frac{h}{R} = \frac{\frac{1}{2} \sqrt{5+2\sqrt{5}}}{\frac{\sqrt{10(5+\sqrt{5})}}{10}} = \frac{10}{2\sqrt{10}} \sqrt{\frac{(5+2\sqrt{5})(5-\sqrt{5})}{(5+\sqrt{5})(5-\sqrt{5})}}$$

$$= \frac{\sqrt{10}}{2} \sqrt{\frac{15+5\sqrt{5}}{20}} = \frac{\sqrt{10 \cdot 5}}{2\sqrt{20}} \sqrt{3+\sqrt{5}} = \frac{\sqrt{10 \cdot 5}}{2\sqrt{4 \cdot 5}} \sqrt{3+\sqrt{5}}$$

$$= \frac{1}{4} \sqrt{10} \sqrt{3+\sqrt{5}} = 1,809017$$



Thema	Maße und Formeln	Darstellungen
-------	------------------	---------------

Reguläres Fünfeck

★ Die Höhe ist die Summe von Umkreis- und Inkreisradius

$$R = a \frac{\sqrt{10(5 + \sqrt{5})}}{10} = a \frac{1}{2} \frac{\sqrt{10(5 + \sqrt{5})}}{5}$$

$$r = a \frac{\sqrt{5(5 + 2\sqrt{5})}}{10} = a \frac{1}{2} \frac{\sqrt{5(5 + 2\sqrt{5})}}{5}$$

$$h = a \frac{1}{2} \sqrt{5 + 2\sqrt{5}}$$

Es soll zunächst $(R + r)^2$ berechnet werden. Nachträglich kann man wieder die Wurzel ziehen

$$R^2 + 2Rr + r^2 = \frac{10(5 + \sqrt{5})}{25} + \frac{2 \cdot \sqrt{10(5 + \sqrt{5})} \cdot 5(5 + 2\sqrt{5})}{25} + \frac{5(5 + 2\sqrt{5})}{25}$$

Zusammenfassung des ersten und dritten Ausdrucks:

$$\frac{75 + 20\sqrt{5}}{25} = \frac{5(15 + 4\sqrt{5})}{25}$$

Zusammenfassung des mittleren Wurzelausdrucks

$$10(5 + \sqrt{5}) \cdot 5(5 + 2\sqrt{5}) = 50(35 + 15\sqrt{5}) = 250(7 + 3\sqrt{5})$$

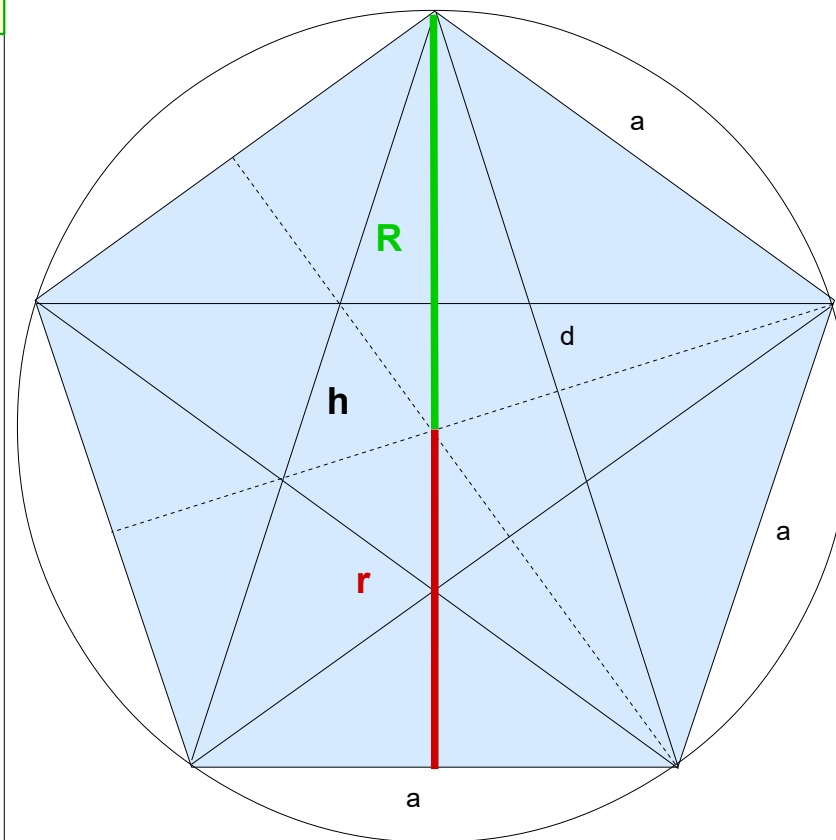
$$\frac{5(15 + 4\sqrt{5})}{25} + \frac{2\sqrt{250(7 + 3\sqrt{5})}}{25}$$

$$\frac{15 + 4\sqrt{5}}{5} + \frac{2\sqrt{10(7 + 3\sqrt{5})}}{5} = \frac{25 + 10\sqrt{5}}{5}$$

Diese Umrechnung kennt nur ein CAS Taschenrechner

$$\frac{5(5 + 2\sqrt{5})}{5} = 5 + 2\sqrt{5}$$

Zieht man aus diesem Ausdruck die Wurzel, erhält man h, da die anderen Faktoren a und $\frac{1}{2}$ bereits ausgeklammert wurden.



Thema	Maße und Formeln	Darstellungen
-------	------------------	---------------

Reguläres Fünfeck

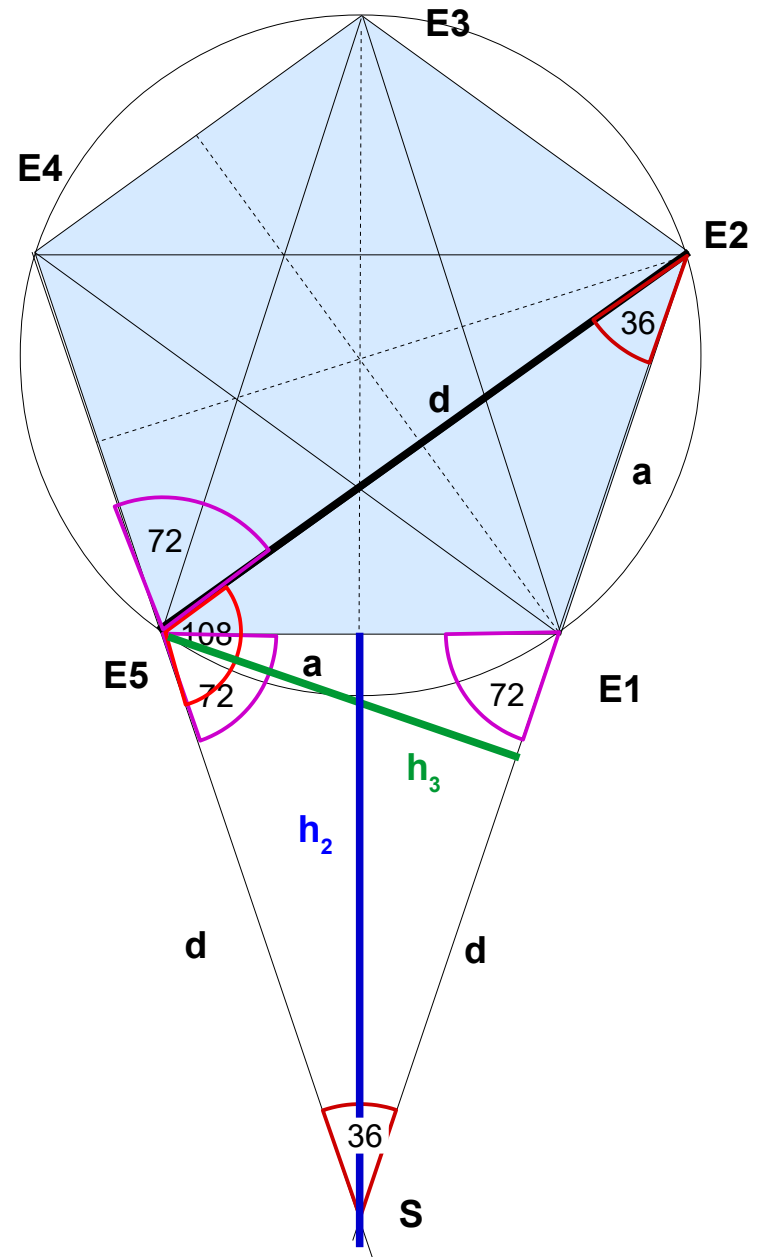
Das Ergänzungsdreieck

Der Winkel $\sphericalangle E_4 E_5 E_2$ ist ein Winkel des Fünfecks und beträgt 72° .
 Damit ist der Winkel $\sphericalangle E_2 E_5 S$ als Ergänzungswinkel zu 180° gleich 108° und der Winkel $\sphericalangle E_5 S E_2 = 36^\circ$

Das Dreieck $E_5 S E_2$ ist damit ein gleichschenkliges Dreieck und deshalb die Seite $E_5 S = d$

Das Dreieck $E_1 S E_5$ ist ebenfalls ein gleichschenkliges Dreieck und deshalb die Seite $E_1 S = d$

Die Höhe auf die Grundlinie im Dreieck $E_2 S E_5$ ist $h_3 = d \sin 36^\circ$
 Die Höhe auf die Grundlinie im Dreieck $E_1 S E_5$ ist $h_2 = d \sin 72^\circ$



Mathematik – Intensivkurs: Fünfeck

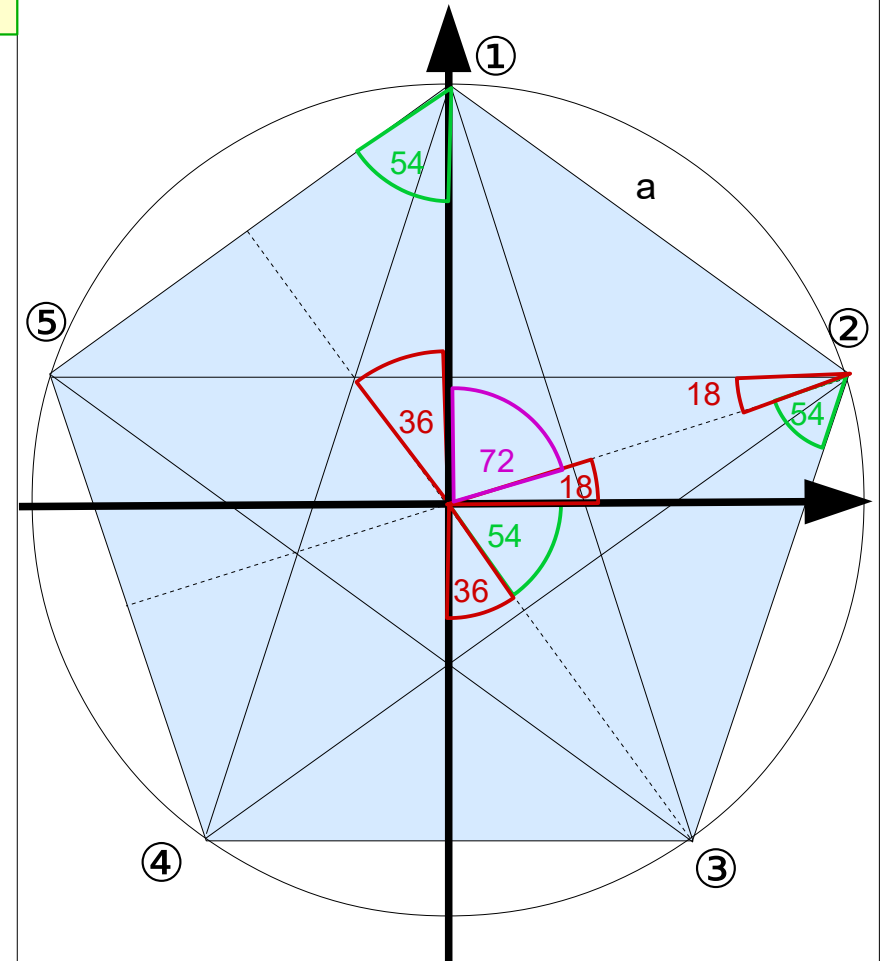
Thema	Maße und Formeln	Darstellungen
-------	------------------	---------------

Reguläres Fünfeck

● Koordinaten der Eckpunkte

Bestimmung der Koordinaten der Eckpunkte unter der Bedingung, dass der Mittelpunkt des Umkreises im Koordinatenursprung liegt

- | | | |
|---|-----------------------------|--|
| ① | $(0 ; R)$ | $(0 ; a \cdot 0,85065)$ |
| ② | $(R \cos 18 ; R \sin 18)$ | $\left[\frac{1}{4} a (\sqrt{5} + 1) / \frac{1}{20} a \sqrt{10 (5 - \sqrt{5})} \right]$
$(a \cdot 0,8090 / a \cdot 0,2628)$ |
| ③ | $(R \cos 54 ; -R \sin 54)$ | $\left[\frac{1}{2} a / -a \frac{\sqrt{5 (5 + 2\sqrt{5})}}{10} \right]$
$(a \cdot 0,5 / -a \cdot 0,6882)$ |
| ④ | $(-R \cos 54 ; -R \sin 54)$ | $\left[-\frac{1}{2} a / -a \frac{\sqrt{5 (5 + 2\sqrt{5})}}{10} \right]$
$(-a \cdot 0,5 / -a \cdot 0,6882)$ |
| ⑤ | $(-R \cos 18 ; R \sin 18)$ | $\left[-\frac{1}{4} a (\sqrt{5} + 1) / \frac{1}{20} a \sqrt{10 (5 - \sqrt{5})} \right]$
$(-a \cdot 0,8090 / a \cdot 0,2628)$ |



Mathematik – Intensivkurs: Fünfeck

Thema	Maße und Formeln	Darstellungen
Reguläres Fünfeck	★ Berechnung der Eckpunktkoordinaten	
	$R \cos 18 = a \frac{\sqrt{10(5+\sqrt{5})}}{10} \bullet \frac{1}{4} \sqrt{10+2\sqrt{5}}$ $= a \frac{\sqrt{20(5+\sqrt{5})^2}}{40} = a \frac{1}{20} \sqrt{5(5+\sqrt{5})}$ $= \frac{1}{4} a (\sqrt{5} + 1)$	$10(5+\sqrt{5})(10+2\sqrt{5})$ $= 10(5+\sqrt{5}) \cdot 2(5+\sqrt{5})$ $= 20(5+\sqrt{5})^2$
	$R \sin 18 = a \frac{\sqrt{10(5+\sqrt{5})}}{10} \bullet \frac{1}{4} (\sqrt{5}-1)$ $= a \frac{\sqrt{40(5-\sqrt{5})}}{40}$	$10(5+\sqrt{5})(\sqrt{5}-1)^2$ $= 10(5+\sqrt{5})(5-2\sqrt{5}+1)$ $= 10(5+\sqrt{5})(6-2\sqrt{5})$ $= 20(5+\sqrt{5})(3-\sqrt{5})$ $= 20(10-2\sqrt{5})$ $= 40(5-\sqrt{5})$
	$R \cos 54 = a \frac{\sqrt{10(5+\sqrt{5})}}{10} \bullet \frac{1}{4} \sqrt{10-2\sqrt{5}}$ $= a \frac{\sqrt{400}}{40}$ $= \frac{1}{2} a$	$10(5+\sqrt{5})(10-2\sqrt{5})$ $= 10(5+\sqrt{5}) \cdot 2(5-\sqrt{5})$ $= 20 \cdot 20$ $= 400$
	$R \sin 54 = a \frac{\sqrt{10(5+\sqrt{5})}}{10} \bullet \frac{1}{4} (\sqrt{5}+1)$ $= a \frac{\sqrt{80(5+2\sqrt{5})}}{40}$ $= a \frac{\sqrt{5(5+2\sqrt{5})}}{10}$	$10(5+\sqrt{5})(\sqrt{5}+1)^2$ $= 10(5+\sqrt{5})(5+2\sqrt{5}+1)$ $= 10(5+\sqrt{5})(6+2\sqrt{5})$ $= 20(5+\sqrt{5})(3+\sqrt{5})$ $= 20(20+8\sqrt{5})$ $= 80(5+2\sqrt{5})$

Thema	Maße und Formeln	Darstellungen
-------	------------------	---------------

Reguläres Fünfeck

Teilung der Diagonale

Jede Diagonale wird durch zwei andere Diagonalen in drei Teile geteilt. Die beiden äußeren Abschnitte sind dabei gleich.

$$d_1 = \frac{a/2}{\cos 36}$$

$$\cos 36 = \frac{1}{4}(\sqrt{5} + 1)$$

$$d_1 = \frac{\frac{1}{2} a}{\frac{1}{4}(\sqrt{5} + 1)}$$

$$d_1 = 2a \frac{(\sqrt{5} - 1)}{(\sqrt{5} + 1)(\sqrt{5} - 1)}$$

$$d_1 = 2a \frac{\sqrt{5} - 1}{5 - 1}$$

$$d_1 = 2a \frac{\sqrt{5} - 1}{4}$$

$$d_1 = d_3 = \frac{1}{2} a (\sqrt{5} - 1) = d - a$$

$$\begin{aligned} d_2 &= d - 2(d - a) = 2a - d \\ &= 2a - \frac{1}{2} a (\sqrt{5} + 1) \\ &= \frac{1}{2} a (3 - \sqrt{5}) \end{aligned}$$

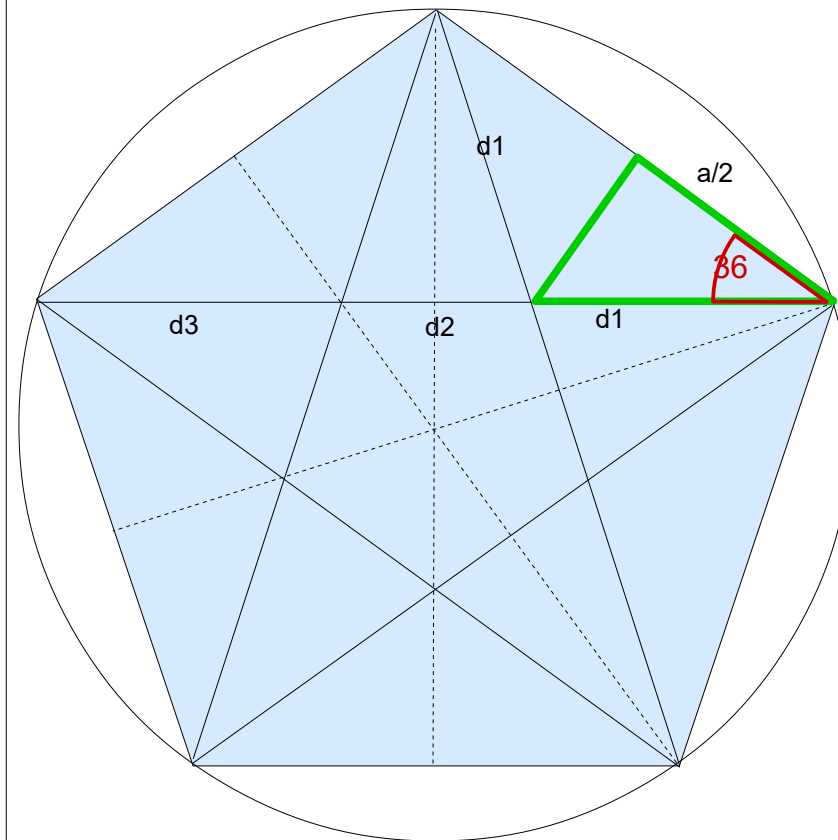
$$d = \frac{1}{2} a (\sqrt{5} + 1)$$

$$d_2 = \frac{1}{2} a (3 - \sqrt{5})$$

$$\frac{d_1}{d} = \frac{d_2}{a}$$

$$d_2 = \frac{a \cdot d_1}{d}$$

$$\frac{d_1}{d_2} = \frac{d}{a}$$



Thema	Maße und Formeln	Darstellungen
-------	------------------	---------------

Reguläres Fünfeck

Die Raute im Fünfeck

Im Fünfeck gibt es auch eine interessante Raute

$$d = \frac{1}{2} a (\sqrt{5} + 1)$$

$$d - a = \frac{1}{2} a (\sqrt{5} - 1)$$

$$e^2 = (d - a)^2 - (a/2)^2$$

$$\begin{aligned} &= \frac{1}{4} a^2 (5 - 2\sqrt{5} + 1) - \frac{1}{4} a^2 \\ &= \frac{1}{4} a^2 (6 - 2\sqrt{5}) - \frac{1}{4} a^2 \\ &= \frac{1}{4} a^2 (5 - 2\sqrt{5}) \end{aligned}$$

$$e = \frac{1}{2} a \sqrt{5 - 2\sqrt{5}}$$

$$\sin 36 = \frac{1}{4} \sqrt{10 - 2\sqrt{5}}$$

$$e = (d - a) \sin 36 = \frac{1}{2} a (\sqrt{5} - 1) \frac{1}{4} \sqrt{10 - 2\sqrt{5}}$$

$$= \frac{1}{8} a \sqrt{(\sqrt{5} - 1)^2 (10 - 2\sqrt{5})}$$

$$= \frac{1}{8} a 4\sqrt{5 - 2\sqrt{5}}$$

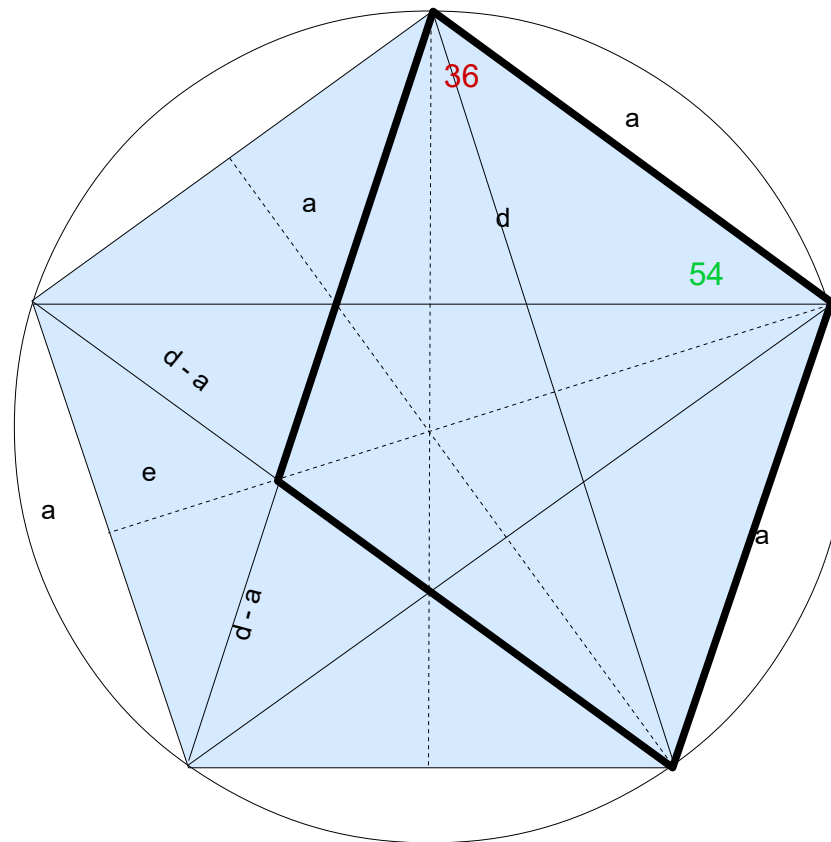
$$e = \frac{1}{2} a \sqrt{5 - 2\sqrt{5}}$$

e ist nicht die Hälfte des Inkreisradius

Die lange Diagonale in der Raute ist d.

Die kurze Diagonale ist $\frac{1}{2} a \sqrt{10 - 2\sqrt{5}} = 2a \sin 36 = 2 h_1$

$$\cos 54 = \sin 36 = \frac{1}{4} \sqrt{10 - 2\sqrt{5}}$$



$$\begin{aligned} &(6 - 2\sqrt{5})(10 - 2\sqrt{5}) \\ &= 60 + 20 - 32\sqrt{5} \\ &= 80 - 32\sqrt{5} \\ &= 16(5 - 2\sqrt{5}) \end{aligned}$$